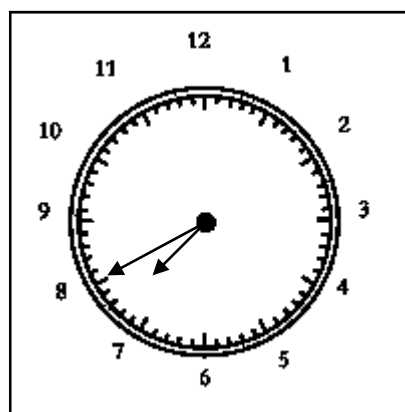
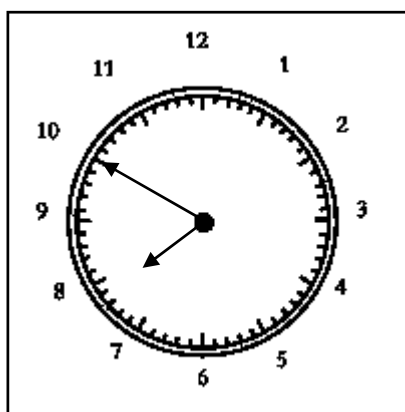
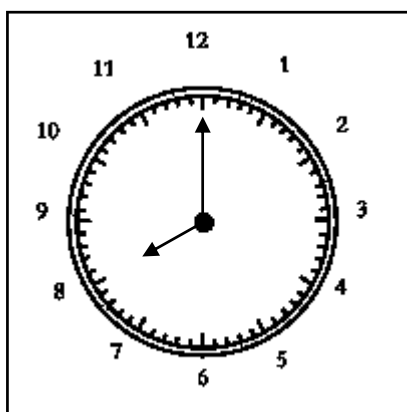


# Défi mathématique des CM2 d'Argenteuil Sud

Avril-Mai

La pendule de la classe prend tous les jours 10 minutes de retard.  
Le premier jour, s'il est 8 heures, elle indique bien 8 heures.  
Le deuxième jour, à 8 heures, elle indiquera 8 heures moins 10.  
Le troisième jour, à 8 heures, elle indiquera 8 heures moins 20.  
Et ainsi de suite.



Peux-tu dire au bout de combien de jours elle finira à nouveau par indiquer 8 heures au bon moment ?